



Folge dem Bären! Du kannst den Weg auch in umgekehrter Richtung laufen. Dann musst du die Aufgaben auch in umgekehrter Reihenfolge bearbeiten.

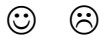
Lies die Schilder genau durch!

Name:

Bei den Stationen 3, 6, 7 und 10 musst du keine Aufgaben hier bearbeiten, Sie machen aber Spaß!



Bäume des Waldes



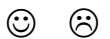
Auf dem Weg musst du an mehreren Stationen raten, welcher Baum gesucht ist. Lies die Beschreibungen der Bäume gut durch und kreuze die Bäume an, die du erraten musstest! (Es gelten nicht die Bäume des Blätterwaldes!)

<input type="checkbox"/>	Kastanie
<input type="checkbox"/>	Lärche
<input type="checkbox"/>	Rotbuche
<input type="checkbox"/>	Linde
<input type="checkbox"/>	Weißtanne

<input type="checkbox"/>	Pflaumenbaum
<input type="checkbox"/>	Bergahorn
<input type="checkbox"/>	Zypresse
<input type="checkbox"/>	Fichte
<input type="checkbox"/>	Birke

<input type="checkbox"/>	Stieleiche
<input type="checkbox"/>	Pinie
<input type="checkbox"/>	Kiefer
<input type="checkbox"/>	Vogelbeere
<input type="checkbox"/>	Liguster


1. Auszeichnen




Minderwertige Bäume werden gefällt. Welche zwei **Schadensarten** sorgen dafür, dass Bäume minderwertig werden?

	und	
--	-----	--

2. Blätterwald - Verbinde die Blätter mit dem richtigen Baum!



Birke
Eiche
Zitterpappel
Vogelbeere
Bergahorn
Buche
Erle



3. Wasserspiel - Bei schönem Wetter kannst du hier viel Spaß haben. 😊


4. Totholz



Tote Bäume (vor allem Buchen) lässt der Förster im Wald liegen. Was bieten diese Bäumen vielen Tieren und Pflanzen?

	und	
--	-----	--

5. Fühlen, riechen, sehen



Die Tanne und die Fichte werden oft verwechselt. Dabei gibt es viele Unterschiede. Ordne die Eigenschaften den Bäumen zu und verbinde!



Nadel weich und abgerundet
Nadel hart und spitz
aromatischer Duft
kaum Duft
keine besondere Nadelunterseite
weiße Streifen Nadelunterseite
Zapfen stehen und zerfallen am Baum
Zapfen hängen und fallen im Ganzen ab



6. Baumtelefon - Hörst du die Geräusche am anderen Ende?

7. Baumgeschichte - Hier haben wir keine Aufgabe.

8. Fichte oder Tanne?



Die Krone welchen Baumes ist spitzer? _____

Welche Bäume werden nun vor allem gepflanzt, um den Stadtwald naturnäher zu gestalten?

	und	
--	-----	--

9. Geräusche des Waldes



Das Klopfen welchen Vogels kann man manchmal im Wald hören? _____

10. Der Wald verjüngt sich - Sind noch alle Pflanzen vorhanden, die im Ausschnitt des Waldbodens zu finden sein sollen?

11. Geologie



Granit ist das Hauptgestein des Waldsteins. Die Bestandteile dieses Gesteins kann man sich mit einem Gedicht gut merken:

_____, _____ und _____, die vergess' ich nimmer.

12. Pilze




Es gibt giftige, ungenießbare und essbare Pilze. Wichtig ist, dass man nur die Pilze verspeist, die man auch als essbare Pilze richtig erkennt. Je nach Hutunterseite unterscheidet man zwei Arten:

	und	
--	-----	--

Zum Überlegen:

Warum sollte man auch für den Menschen giftige oder ungenießbare Pilze nicht zerstören? _____.

13. Abbaugrube Saalequelle (Geschichte)



Eigentlich wollte man Gold finden. Man hat aber dann nur „Gelbe Kreide“ abgebaut. Für was hat man diese Eisenerde verwendet?

	und	
--	-----	--

14. Saalequelle und Geschichte



Welcher Fluss hat hier seine Quelle?	
Seit wann besitzt die Stadt Münchberg uneingeschränktes Eigentumsrecht?	
Wann wurde der Waldlehrpfad eingeweiht?	
Wann wurde der letzte Bär am Waldstein erlegt?	

15. Rückegassen



Wie heißt der „Mähdrescher für Bäume“	
Was wird durch die Rückegassen transportiert?	

16. Festmeter und Raummeter



Man unterscheidet beim Holz zwei Maßeinheiten:
Festmeter und Raummeter.
Wie bezeichnet man 1 Kubikmeter
aufgeschichtetes Holz?




17. Forstwirtschaft früher und heute



früher	heute

18. Tiere des Waldes



Findest du die Tiere?

- Fuchs
- Marder
- Eichhörnchen
- Mäuse
- Rothirsch
- Reh
- Wildschwein
- Feldhase
- Luchs
- Wolf
- Braunbär
- Auerhuhn

Z	P	R	K	F	E	L	D	H	A	S	E	F	S	W
O	Z	H	M	N	I	M	V	R	M	J	Y	K	T	I
N	J	S	F	Q	C	N	B	D	K	G	W	Q	Z	L
R	E	H	O	Y	H	O	K	O	X	C	P	P	J	D
M	L	G	V	P	H	C	J	O	Z	W	K	Z	W	S
M	L	Z	X	U	O	B	J	U	Y	J	F	Z	U	C
A	K	A	S	K	R	R	A	F	U	C	H	S	D	H
R	H	U	R	C	N	A	N	M	A	U	S	E	Z	W
D	Y	E	W	F	C	U	F	K	W	F	L	K	L	E
E	M	R	O	P	H	N	X	Z	U	Y	B	U	U	I
R	N	H	L	C	E	B	U	V	L	X	T	B	C	N
W	P	U	F	X	N	A	K	K	G	T	S	G	H	W
G	T	H	I	S	Y	R	M	H	M	Y	V	H	S	U
H	W	N	X	K	M	W	Y	Z	Q	Y	C	Y	E	B
G	Z	K	R	O	T	H	I	R	S	C	H	K	A	F

19. Baumalter zählen



Was zählt man, wenn man das Alter eines
Baumes bestimmen will?

☺ _____ richtig und ☹ _____ falsch bearbeitet von 16 Aufgaben.